

Beste Hisse Kwissers,

Het jaar 2015 loopt weer ten einde: het wordt kouder en het is steeds vroeger donker. Dit betekent dat het tijd is voor alweer de zesde editie van De Hisse Kwis.

Afgelopen jaar hebben we afscheid genomen van medeoprichtster Marion en Michelle. Zij hebben aangegeven na jaren van organiseren nu zelf deel te willen nemen aan de Hisse Kwis. Gelukkig hebben we geen mensen hoeven te benaderen om de organisatie te komen versterken. Bo, Kelly en Joop hebben zichzelf gemeld om de uitdaging aan te gaan. Samen met deze drie kanjers zijn we vanaf maart volop aan de slag gegaan.

Na de succesvolle vorige edities en de almaar stijgende deelnemersaantallen is het voor de organisatie nu tijd om dit mooie aantal te handhaven. Elk team wil hoger eindigen dan vorig jaar en haalt hiervoor alles uit de kast. We zien hierdoor de teams steeds groter worden. Dat betekent nog meer Kwisplezier binnen de teams, maar het heeft wel invloed op het aantal deelnemende teams. Om De Hisse Kwis succesvol te houden, hebben wij een enquête opgesteld om jullie ideeën en meningen te horen. Mede door jullie ideeën willen wij De Hisse Kwis nog jaren voortzetten.

Dat diverse Hisse bedrijven ons een warm hart toedragen blijkt wel uit het feit dat ze zichzelf aanmelden om De Hisse Kwis financieel te steunen en onze dank hiervoor is dan ook erg groot. Hierdoor kan het inschrijfgeld laag blijven. Wij bedanken De Pas, omdat zij telkens weer meewerken aan de uitvoering van onze ideeën en plannen om er iets moois van te maken.

Wij, als organisatie, denken er dit jaar weer in geslaagd te zijn om een gevarieerde kwis met nog meer verschillende categorieën te maken waardoor er zeker vragen zijn die naar meer smaken. Vind je het beantwoorden van de vragen moeilijk, dan hebben we altijd nog de altijd populaire categorie met buitenvragen en voor de teamcaptain dit jaar een speciale opdracht om punten te verzamelen. Rest mij niets anders dan jullie heel veel succes te wensen en tot ziens bij de prijsuitreiking op vrijdag 29 januari.

Hans Verstegen  
Voorzitter

Teamnummer:

Teamnaam:

Wij zetten de joker in op:


# Sponsoren

# DE HISSE KWIS

De Hisse Kwis wordt mede mogelijk gemaakt door:		
		
		

Lees aandachtig eerst de onderstaande punten door!

1. De antwoorden op de vragen dienen ingevuld te worden in de gele, omrande kaders van dit vragenboekje.
2. Aan niet of slecht leesbare antwoorden worden geen punten toegekend.
3. Spel correct. Als dit symbool  bij de vraag vermeld staat, letten we zeer scherp op spelling. Geen correcte spelling, dan ook geen punten.
4. Alleen de teams die hun vragenboekje tijdig en op de juiste wijze hebben ingeleverd dingen mee naar de prijzen.
  - a. Het ingevulde vragenboekje moet op 29 december 2015 worden ingeleverd in Cultureel Centrum De Pas tussen 23.00 uur en 23.30 uur.
  - b. Leg alle bladzijden van het vragenboekje op de juiste volgorde (paginanummer van laag naar hoog) en stop het terug in het mapje.
5. Er zijn 10 categorieën, bonusvragen en een Geheime proef.

1. His anno 2015	6. Geheurd en gezien
2. Sport en verenigingen	7. His volk, over de dorpsgrenzen
3. Hisse historie	8. In de schoolbanken, aan de slag
4. Lost ut mar op	9. Voor de bèta's
5. Van alles wa	10. Dur en Dur His

Bonusvragen
6. Per categorie zijn 100 punten te verdienen. Ieder team mag een joker inzetten op één van de categorieën, uitgezonderd de Bonusvragen en de Geheime proef. Voor de gekozen categorie tellen de punten dubbel. Geef op pagina 2 aan voor welke categorie jullie team de joker inzet.
7. De uitslag van De Hisse Kwis wordt bekend gemaakt tijdens de prijsuitreiking in Cultureel Centrum De Pas op vrijdag 29 januari 2016 vanaf 20:00 uur.

## 8. Geheime proef



Vanavond om 19:00 uur vindt een geheime proef plaats. De deuren van de Pas gaan hiervoor om 18:45 uur open.

Graag nodigen wij één persoon per team uit om hier aan deel te nemen.

Wees op tijd!

Te laat aanwezig betekent helaas dat jullie team 0 punten krijgt voor deze categorie.

De geheime proef duurt ongeveer tot 19:45 uur.



Veel succes!

1. In DeMooiBernhezeKrant staat regelmatig een foto van vier generaties: kind, ouder, grootouder en overgrootouder. Hoeveel van dit soort foto's stonden er in DeMooiBernhezeKrant van februari t/m mei, waarvan op dat moment minstens één gezinslid in His woonde?

*Drie foto's*



2. Ieder jaar voeren de leerlingen van de groepen 8 van de Hisse basisscholen een afscheidsmusical op voor hun schoolgenoten. Hoe heetten de musicals die dit jaar werden opgevoerd door de groepen 8?

BS De Toermalijn:

*Windkracht 8*

BS Emmaus:

*'t Dak eraf!*

BS De Kiem:

*Wat maak je menu?*

OBS Delta:

*Geen musical*

3. Welke weg werd er volgens het bord op de foto afgesloten?

*'t Dorp*



4. Dit is een plattegrond van de Hisse kermis. Hoe heet de attractie die op de plaats van het groene vlak stond?



*Safari Trip*

5. Wat hebben deze vier mannen met elkaar gemeen?  
Rob van Aalst  
Ton Hendriks  
Jan-Paul Langens  
Herman Huismans



*Deze vier zijn allemaal penningmeester van een Hisse sportvereniging*

6. In elk jaargetijde hebben we op een eerste zondag van de maand een foto gemaakt van de onderstaande temperatuurpaal. In welke volgorde werden de foto's gemaakt?



C, D, A, B

7. Welk team won de pubquiz die op 16 januari in Cultureel Centrum De Pas werd gehouden?

Familie Kroeze



8. Wat zijn de namen van de drie personages op de onderstaande foto, zoals ze in de musical heten?



Jet

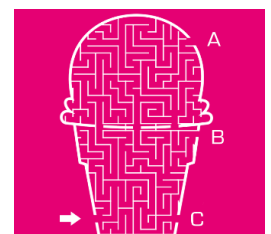
Tineke

Hans

9. Tijdens de boerenbruiloft op carnavalsmaandag vindt traditiegetrouw een veiling van goederen en diensten plaats. Wat was het hoogste bod op de volledig verzorgde barbecue?

€ 1500,-

10. Op welke facebookpagina's werden onderstaande foto's gepost?



a: Depot

c: Bon Fromage

b: Gastronomía Italiana

d: Cafetaria 't Pleintje

11. Een gezin bestaat uit vader (56), moeder (54), twee zonen (16 en 14) en een dochter (13). Zij hebben twee gemaksabbonementen bij de bibliotheek in His. Vader tennist bij De Broekhoek, moeder bij De Hoef. De oudste zoon handbalt bij Dos '80, terwijl de andere zoon basketbalt bij SlamDunk. De dochter hockeyt bij MHC Heesch. Hoeveel betaalt dit gezin per heel jaar aan contributie, indien er betaald wordt met incasso?

€ 783,-



12. Wie was ooit het minst aantal dagen Olympisch kampioen schaatsen op de 10.000 meter?



Bart Veldkamp

13. Na Frankrijk is Nederland het land met de meeste starts van de Tour de France. Wie waren de tourwinnaars van deze edities, voordat ze eventueel gediskwalificeerd werden?

Louison Bobet  
Luís Ocaña  
Bernard Hinault

Bjarne Riis  
Alberto Contador  
Chris Froome

14. Van welke voetbalwedstrijden was dit het scoreverloop? Geef de twee teams in juiste volgorde en de volledige datum waarop deze wedstrijd werd gespeeld.

0-1 (10) 1-1 (53) 2-1 (68)

Nederland - Brazilië 2-7-2010

0-1 (6) 1-1 (90+1) 2-1 (90+3)

Manchester - Bayern 26-5-1999

0-1 (23) 1-1 (25) 1-2 (62) 2-2 (90+5)

ADO Den Haag - PSV 11-8-2015

0-1 (27) 1-1 (34) 2-1 (49) 3-1 (57) 4-1 (62)

Ajax - Feyenoord - 12-2-1995

15. Max Verstappen heeft afgelopen seizoen veel punten gescoord in de Formule 1. Zijn vader heeft vroeger ook veel punten gehaald in de Formule 1. Hoeveel punten zou Jos Verstappen in totaal hebben gehaald tijdens zijn Formule-1-carrière, volgens de huidige puntentelling?

119



16. Bij de finale 100 meter schoolslag op de Olympische Spelen doen acht deelnemers mee. Op hoeveel verschillende manieren kunnen de drie medailles worden verdeeld?

336

17. Hoe wordt de finish genoemd, zoals op deze foto te zien is?



abc ✓ shanghai

18. Welke schaatser en schaatsster werden op de WK afstanden allebei wereldkampioen en stapten later dit jaar samen in het huwelijksbootje?

abc ✓ Jorrit Bergsma

abc ✓ Heather Richardson

19. Op tafel liggen vier rode ballen en van alle andere kleuren één bal. Hoeveel punten zijn er in dit spel nog maximaal te behalen?



66

20. Natuurlijk moeten de organisatieleden van "De Hisse Kwis 2015" ook wel eens naar de wc. Het afgelopen jaar zijn zij bij verschillende wc's in His geweest. Waar zijn deze foto's gemaakt?



De Pas



De Broekhoek



HVCH



Vijfeiken

21. Welke oud-burgemeesters van His en/of Bernheze zie je op de foto's?



a:



b:



c:



d:



a: *Van Gorp*



c: *Van Beek*



b: *Wolters*



d: *Offermans*

22. Wat stond er in His op de rode stempotloden bij de verkiezingen in november 2006?

*Bernheze 22 november 2006, U kleurde geschiedenis!*

23. Op welk adres hing dit bord jaarlijks tegen de gevel?

*Hoogstraat 20a*



24. Wanneer werd de nieuwe A50 tussen Eindhoven en Oss geopend en door wie?

*7 oktober 2006*

*minister Karla Peijs*

25. Het carillon van His heeft al een aantal keer moeten verhuizen. Op welke locaties heeft het gestaan?

*Bij de Emmauskerk,  
Op de Misse*

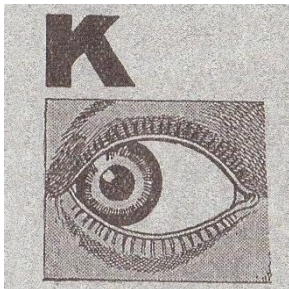


26. Op welke datum is de eerste geldautomaat in His in gebruik genomen?

1 april 1987



27. Onderstaande logo's zijn uit een oude doos tevoorschijn gekomen. Van welke bedrijven zijn deze?




Kwatta chocolade



Blue Band



Gazelle rijwielen



Zwanenberg Oss

28. Broeder Piet is een begrip in His. In 1980 begon hij als pastoraal medewerker in de Petrus parochie in His en hielp daar de pastoors mee met onder andere de zieken- en huisbezoeken. Wat is de achternaam van broeder Piet?

De Klerk

29. In welk jaar is gemeentesecretaris M.J. van der Stappen met de VUT gegaan?

1988



30. Wat zijn de officiële voor- en achternamen van de volgende personen?

Hans van Piet de Geurt

abc  Hans van den Akker

Jan van Tinus Driek Haentjes

abc  Jan van de Ven


Willie van Janus Driek Woutere

abc  Willie van Oort

31. Een vrouw vult twee bakken, een grote en een kleine, met water. In de kleine bak past 12 liter. Zij heeft twee slangen. Door de ene slang kan 3 keer zoveel water als door de andere. Zij doet in elke bak een slang en opent de kranen gelijktijdig. Als de kleine bak half vol zit, wisselt zij de slangen. De beide bakken blijken nu op hetzelfde moment vol te zijn. Hoeveel liter water zit er in de grote bak?

20 liter

32. Deze varkentjes komen niet uit His want het zijn echte vechtersbaasjes. Om te zorgen dat ze niet meer vechten, moeten ze allemaal apart komen zitten. Nu moet je drie touwen spannen zodat de varkens niet bij elkaar kunnen komen. Er mogen geen twee touwen aan één paaltje zitten.



33. Een blinde man zit op een onbewoond eiland. Hij heeft twee rode en twee blauwe pillen. Hij moet direct één rode en één blauwe pil pakken anders gaat hij dood. Hoe doet hij dit?

Van elke pil een halve pakken

34. Bram en Jeroen zijn juist collega's geworden met Petra en ze willen weten wanneer ze getrouwd is. Petra geeft hen een lijst met tien mogelijke data:

5 oktober  
6 oktober  
9 oktober  
7 november  
8 november  
4 december  
6 december  
4 januari  
5 januari  
7 januari



Daarna vertelt Petra tegen Bram in welke maand ze getrouwd is en tegen Jeroen op welke dag.  
Bram: "Ik weet niet wanneer Petra's trouwdag is, maar ik weet dat Jeroen het ook niet weet."  
Jeroen: "Eerst wist ik niet wanneer Petra haar trouwdag is, maar nu weet ik het wel."  
Bram: "Dan weet ik ook wanneer ze getrouwd is."

Wanneer is Petra's trouwdag?

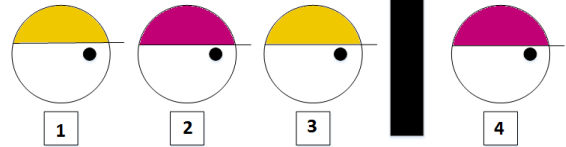
6 december



35. Er staan 4 personen met een petje, iedereen kijkt naar rechts en kan niet omkijken. Men weet dat er 2 gele en 2 roze petjes zijn. Men weet niet welke kleur pet ze zelf op hebben. Tussen persoon 3 en 4 staat een scherm waar men niet doorheen kan kijken.

Men vraagt op volgorde van nummering of de persoon weet welke kleur pet hij zelf draagt. Wie kan het met zekerheid zeggen?

2



36. Op de plaats van het vraagteken komt geen 6, maar wat wel?

1 3 5  
2 4 ?

R

37. Wat wordt er met de volgende woorden bedoeld?

Verkleurmannetje

kameleon

Riller

thriller

Hysbak

lift

Duikweg

viaduct

Skeelhoofdpijn

migraine

Muurprop

stopcontact

38. De organisatieleden van "De Hisse Kwis 2015" lijken op deze foto allemaal ongeveer even groot, maar dat zijn ze in werkelijkheid niet. Wat is de juiste volgorde van de organisatieleden van groot naar klein? Gebruik de voor- en achternamen.



1: Stan Jaspers

2: Hans Verstegen

3: Joop van Uden

4: Kelly Verstegen

5: Emmy Wijnen

6: Laurens Menkveld

7: Bo Coufreur

8: Corien Vos

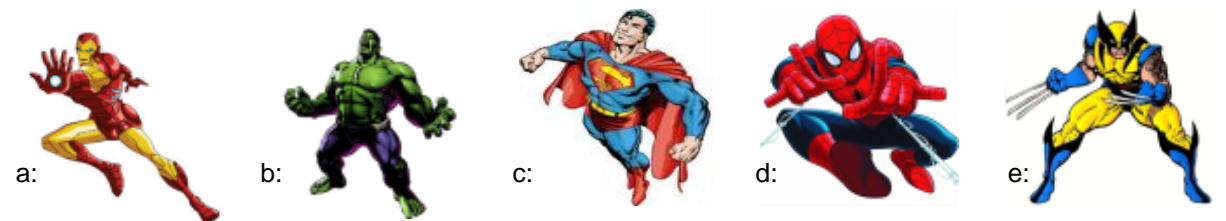
39. Hieronder staan steeds vijf foto's. Per reeks hoort er één foto niet bij. Welke hoort er niet bij?



B



B



C



D

40. Kronkelwoordzoeker:

In de puzzel staan alleen de woorden DEHISSEKWIS geschreven. Zoek alle woorden.

De letters moeten elkaar horizontaal of verticaal aanraken en mogen maar een keer gebruikt worden.

Streep alle woorden door.

De overgebleven letters vormen het antwoord.

D	E	I	H	I	S	S	D	E	H	D	E	H	I	S	D	E	H
D	H	I	E	I	S	E	E	D	I	I	H	E	D	S	I	W	I
E	H	S	D	W	W	K	H	I	S	S	I	W	K	E	S	K	S
S	I	S	E	K	I	E	S	S	S	S	S	I	S	E	K	E	S
S	D	E	H	K	S	K	E	D	E	E	K	W	S	S	W	S	E
E	I	S	I	S	I	W	H	I	K	S	E	H	I	S	I	S	K
K	W	S	S	W	K	E	S	S	W	I	D	S	S	E	H	I	W
W	K	E	S	I	E	S	S	I	H	E	D	I	W	K	E	S	I
I	D	S	I	W	K	S	E	I	S	D	E	H	D	W	D	I	S
S	E	D	E	H	I	S	K	W	I	S	H	E	E	I	S	W	K
D	H	I	S	S	E	K	W	I	S	I	I	D	H	I	S	S	E
E	H	E	K	S	S	E	K	E	K	W	S	K	W	S	I	S	D
S	I	S	W	I	H	I	W	S	S	I	S	E	I	S	W	H	E
S	E	S	I	S	E	S	E	K	E	H	E	H	S	E	K	I	S
W	K	I	D	D	D	S	S	W	D	S	D	I	S	E	S	S	I
I	E	H	E	E	H	I	S	I	I	S	S	I	W	K	E	K	W
S	D	E	H	I	S	S	E	K	W	D	E	H	I	S	S	Succes	

Oplossing: *ik wisse*

41. Welke verbintenis hebben deze vier locaties met elkaar?



*Dit zijn de vier locaties van het WK Beachvolleybal 2015*

42. Wie is de aanstichter van de hoedjestradijtie op Prinsjesdag?



*Erica Terpstra*

43. We hebben nog een zakje met geld van onze vakanties gevonden. Hoeveel is dit nu totaal in euro's waard?  
HFL 1,50 + 35.981 lire + 48,20 DEM + 384,60 FRF + 617,90 BEF

*€ 117,85*



44. Twee beroemde fonteinen in Rome waren in 2015 in het nieuws. Hoe heten de fonteinen op de foto's?



*Barcaccia fontein*



*Trevi fontein*




45. We spreken vaak over de lange en de korte dagen gedurende een jaar. Hiernaast hebben we nog zomer- en wintertijd waar de klok een uur voor- of achteruit gaat. In 2015 was er echter één dag echt langer dan normaal. Welke datum was dit?

*30 juni*



46. Wat is de juiste volgorde van onderstaande snor/baard dragende heren van oud naar jong op basis van geboortedatum?



a:



b:



c:



d:



e:



f:

D

E

C

F

A

B

47. Welke cabaretier heeft zijn gezicht laten zien in een voet en een peer?

Mark van de Veerdonk

48. Welk liedje vroeg Het Feestteam in 2014 op de kwisavond aan met een polonaise als gevolg?

Laat de zon in je hart van René Schuurmans

49. Met welke woorden sluit Piet Paulusma het weerbericht af?



Tot morgen

50. Van welke producten staan hier de verpakkingen? Geef merk en productnaam, bijvoorbeeld: Prodent - tandpasta.



Diamant - frituurvet  
Listerine - mondwater  
Spa - blauw / water  
Andrélon - shampoo

Remia - frietsaus  
Enkhuizer - koeken  
Robijn - wasmiddel

Blue band - bak en braadboter  
Fanta - frisdrank  
Roundup - onkruidbestrijding

## Bonusvragen

DE HISSE KWIS

A.

Normaal ruikt het naar olie bij



Welke 3 geuren kan je er vanavond ruiken?

*Hugo Boss - Boss bottled*

*Dior - J'adore*

*Mühlens gmbh & co - 4711*

B.



Wie staan er op de portretten in de etalage van **Kantoorboekhandel Heesch** ?

*Harold Wijnen*

*Terry van den akker*

*Michaël Verhoeven*

C.

Echografie is een prachtig hulpmiddel bij het diagnosticeren en behandelen van een blessure. Daarom is het ook super fijn dat het maken van een echo mogelijk is bij



Welke fysiotherapeut(en), die werkzaam is/zijn bij FysioCentrum Heesch, is/zijn opgeleid tot echografist?

*Monique Derksen, Sandra Bijsterveld*

D.

Op de website van verstopt.



staan logo's van De Hisse Kwis en letters

Hoeveel logo's van De Hisse Kwis staan er op de website en welk zijn de letters?

*72*

*De aanhouder wint!*

## Bonusvragen

DE HISSE KWIS

E.

Op de locatie van



stond vroeger een café / cafetaria.

Hoe heette dit café / cafetaria en wat was de bijnaam van de eigenaar?

*Halfweg*

*Bert van Bernhard m'Ties*

F.

Wat was het volledige adres van het bedrijf met dit logo voor de verhuizing in 2009?



*Middelste Groes 17 Heesch*

G.

Welke vier projecten ontwerpt en/of realiseert in His?

 **traject** momenteel  
bouwmeester & architect

*Nieuwbouw kantoor 'Traject met appartementen*

*Nieuwbouw bedrijfsruimte met showroom*

*Vrijstaande woning*

*Directievoering nieuwe sportaccommodatie HVCH*

H. In onderstaande afbeelding staan reepjes van de logo's van de sponsoren. Welk reepje is van welke sponsor?

1 2 3 4 5 6 7 8 9 10 11 12



1: *Wingens Webdesign*

5: *Jumbo Wiegmans*

9: *Jos Wingens*

2: *Duo Metal BV*

6: *Eierautomaat*

10: *Van den Akker keukenmontage*

3: *Leeijen electro*

7: *Hans Verstegen Installatiewerken*

11: *Akker makelaardij*

4: *Fides*

8: *Proud MaMa*

12: *BouwOort*

51. Welke "bekende" katten zijn hier afgebeeld?



*Felix*

*Thomas O'Malley*

*Figaro*

*Azraël*

52. Hoe gaan onderstaande Hisse klassiekers verder? Maak de zin af.

"Van Grolder – Zogel tot de Wijst ..."

*stû iedereen te springen*


"Gezellig en gastvrèj, ons dorpke fris en groen..."

*Kunt alt en overal, een bakske koffie doen*

"Maar hoe mooi het is ontdek je..."

*Als je hier gezellig woont*

53. Wat zijn de namen van de voormalig GTST-acteurs? Geef zowel de werkelijke naam als de naam in de serie.



*Martin van Steijn*

*Sabine Koning*

*Chris Comvalius*

*Mickey Lammers*

*Anita Dendermonde*

*Dorothea Grantsaan*

54. Welke band heeft het voor elkaar gekregen om de burgemeester van Venetië te laten aftreden na een concert dat ze daar gaven?

*Pink Floyd*

55. Wat is de muzikale overeenkomst tussen Jan Smit, Danny de Munk en Samson en Gert?

*Ze hebben allen een lied: Vrienden voor het leven*

56. Dit zijn drummers van bekende bands. Hoe heten deze drummers?



*Phil Rudd*



*Roger Taylor*



*Larry Mullen Jr.*

57. Waar wonen de volgende personages?

Donald Duck

*Duckstad*

Brandweerman Sam

*Piekepolder*

Alfred J. Kwak

*Groot Waterland*

De Bluffers

*Bluffonië*


58. Welke bekende Nederlanders staan er op deze foto?

*Matthijs van Nieuwkerk*

*Art Rooijackers*

*Anouk Teeuwe*

*Ilse de Lange*



59. In het openlucht theaterspektakel in Lith zat ook His' talent. Wie speelde daarin mee en wat was de rol van deze acteur / actrice?

*Ine van Kempen*

*Baker*

60. Hoe vaak staan Coldplay, The Beatles, Bløf, The Rolling Stones en Queen bij elkaar opgeteld met een notering in de Top 2000 van radio 2 van 2014?

*134*



61. Wie zijn deze Hissenaren?



a:



b:



c:



d:



a: *Dennis van de Wetering*



c: *Anne van Munster*



b: *Ludwig Verhagen*



d: *Cindy van den Hurk*

62. Welke Hissenaren staan ook wel bekend als Ties & Grad?

*Jan van Schijndel en Wim van der Doelen*

63. Wat zijn de meisjesnamen van deze Hisse bruiden?



a:



b:



c:



d:



a: *Teuntje Monteiro*



c: *Sita van der Leest*



b: *Rachella van Lieshout*



d: *Yvonne Fransen*

64. Op de website van De Hisse Kwis staat een muziekfragment. Wie hoor je hier zingen?

*Marlijn van Dijk*

65. Welke Hisse bands zie je op onderstaande foto's?



*Qualawaai*



*trio PiWi-F*



*Piccadilly's*

66. In een Bernhezer kern is in 2015 een interactief kunstwerk onthuld. Dit kunstwerk telt de dagen af naar 0. Wie op dat moment op de stoel van het kunstwerk zit wint een ballonvaart. Op hoeveel dagen staat het kunstwerk vandaag?

155 na 19.00 uur 154

67. Een aantal Prinsen kwamen afgelopen carnaval om bijzondere dingen in de krant.

- a: In welke plaats was de Prins, met nog 3 dagen carnaval te gaan, zijn stem kwijt?  
b: In welke plaats raakte de Prins tijdens de optocht gewond en moest voor behandeling naar het ziekenhuis?  
c: In welke plaats zou de Prins tijdelijk zijn taak hebben moeten neerleggen omdat hij te diep in het glaasje had gekeken?  
d: In welke plaats vroeg de Prins zijn vriendin aan het begin van de carnaval ten huwelijk en werd er nog diezelfde carnaval getrouwd?

a: Oss

c: Nuland

b: Uden

d: Mill

68. Oss, Loosbroek en Vorstenbosch hebben hun allereerste dorpskwis er op zitten. Wat zijn de teamnamen van de winnaars van deze kwissen?

@bdossenomgeving

Swiftboys 8

Het Brein

69. Welk internationaal fietsevenement werd een aantal jaar geleden in het Brabantse Lith georganiseerd?

Bak- en transportfietsrace - Lith

70. Dit jaar zijn Emmy en Stan in de auto door de regio gereden. Onderweg maakten ze de onderstaande foto's. In welke dorpen zijn ze geweest?



Vinkel



Geffen



Loosbroek

71. Benoem de woordsoorten (lidwoord, persoonlijk voornaamwoord enz.) in de volgende zin:  
De gedachte dat<sup>(1)</sup> het oplossen van zulke uiteenlopende<sup>(2)</sup> kwisvragen heus niet van een leien dakje zal lopen, brengt je waarschijnlijk tot de overtuiging dat 't tactisch is je<sup>(3)</sup> te concentreren op items waar je echt<sup>(4)</sup> verstand van hebt.

dat<sup>(1)</sup>

voegwoord

uiteenlopende<sup>(2)</sup>

bijvoeglijk naamwoord

je<sup>(3)</sup>

wederkerend voornaamwoord

echt<sup>(4)</sup>

bijwoord


72. Hoe heten de hier aangegeven landen?



Curaçao



België



Zuid-Afrika

73. Mister Mennen heeft bijna 45 jaar in het onderwijs gezeten. Hij heeft op verschillende plaatsen les gegeven en als laatste in His op de Petrus school. Toen hij stopte met lesgeven bleef hij verbonden met His.  
Welke functie had hij nog meer in His?

Vice voorzitter bij HVCH


74. Welke van onderstaande volkeren wonen het dichtst bij elkaar?



a:



b:



c:



d:

C en D

75. Welke twee dingen zijn er zowel in een smederij als in je oren te vinden?

Hamer

Aambeeld



76. Kunnen De Hisse Kwis teams samenwerken?

We vragen aan jullie om een foto te maken van jullie teamcaptain samen met een andere teamcaptain. Alle teams hebben een teamnummer gekregen, nu moet teamnummer 001 een foto maken van hun teamcaptain samen met de teamcaptain van team 002. Teamcaptain 002 met 003 enzovoort. De teamcaptain van het laatste team gaat op de foto met de captain van teamnummer 001. Lukt het om samen een foto te maken, dan worden de punten ook samen gedeeld. Ieder dus 5 punten. Dit kun je 2 keer verdienen.

Ieder team stuurt dus één foto door voor 23:30 uur naar: [kwisvraag@dehissekwis.nl](mailto:kwisvraag@dehissekwis.nl)

Bij verzenden je teamnaam en -nummer vermelden in het onderwerp.

De foto mag maximaal 3 MB zijn.

O ja kijk voor de locatie naar de foto op twitter. Deze locatie is om 21.00 uur geopend.

77. Wat is het 230<sup>e</sup> volledig Hisse vaste telefoonnummer dat begint met 0412, volgens de laatst verschenen telefoongids?

0412-451113

78. Bij het ophalen van het Kwisboekje in Cultureel Centrum De Pas kreeg je drie flesjes bier mee. De originele etiketten zijn er vanaf gehaald en op de dop is een kleur aangebracht. Schrijf het merk bier bij de goede kleur.

Je hebt de keuze uit: Alfa, Amstel, Bavaria, Dommelsch, Grolsch en Warsteiner.

Ja, jullie mogen proeven, proost!

NIX18

	Amstel
	Warsteiner
	Bavaria



79. Maak een duidelijke teamfoto voorzien van teamnaam en -nummer. Stuur de foto vóór 23:30 uur naar: [kwisvraag@dehissekwis.nl](mailto:kwisvraag@dehissekwis.nl) Bij verzenden je teamnaam en -nummer vermelden in het onderwerp. De foto mag maximaal 3 MB zijn.

80. Vul de enquête in die op de website te vinden is.

81. Theezakjes zitten soms per stuk in een doosje verpakt, zie foto. Het theedoosje op de foto heeft de vorm van een prisma. De voor- en achterkant zijn gelijkbenige trapezia en de beide zijanten zijn rechthoeken. Het doosje heeft een hoogte van 42 mm, de onderkant is een rechthoek met lengte 41 mm en breedte 20 mm, en de bovenkant is een vierkant met zijden van 20 mm.

Wat is de inhoud van het theedoosje? Geef je antwoord in een geheel aantal  $\text{cm}^3$ . Verwaarloos de dikte van het materiaal waarvan het doosje gemaakt is.



26  $\text{cm}^3$

82. Welk van onderstaande diagrammen hoort bij het kooktraject van kerosine?

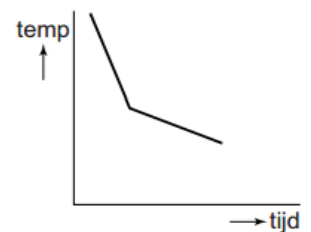
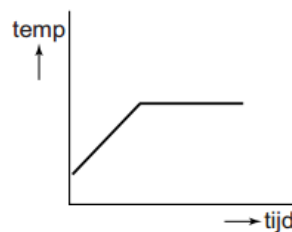
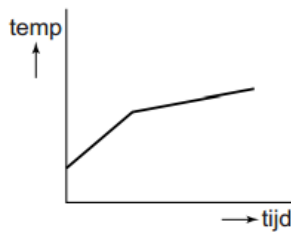
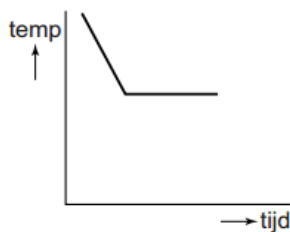



diagram 2

83. Een Boeing 737 gebruikt  $3,1 \cdot 10^3$  liter kerosine per uur. Ga ervan uit dat kerosine een dichtheid heeft van  $0,80 \cdot 10^3 \text{ kg/m}^3$ . Hoeveel kg kerosine gebruikt deze Boeing per uur?

2480 kg/uur



84. Links is Albert Einstein, maar wie is zijn dubbelganger op de rechter foto?

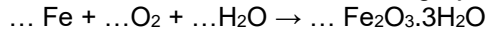


Rudi Völler

85. Een kraanarm bestaat uit ijzeren profielen en kabels met een totaal volume van  $95,3 \text{ dm}^3$ . Wat is de massa van de kraanarm?

750 kg

86. IJzer is een veelgebruikt metaal dat echter door reactie met zuurstof en water gemakkelijk wordt omgezet tot roest. De formule van roest is  $\text{Fe}_2\text{O}_3 \cdot 3\text{H}_2\text{O}$  (s). De omzetting van ijzer tot roest is een redoxreactie waarvan de totale vergelijking hieronder onvolledig is weergegeven.



Wat is de kloppende vergelijking? Neem bovenstaande onvolledige vergelijking over en maak deze kloppend door de vier ontbrekende coëfficiënten in te vullen.



87. Wie van de onderstaande personen ontwikkelde een vaccin?



a:



b:



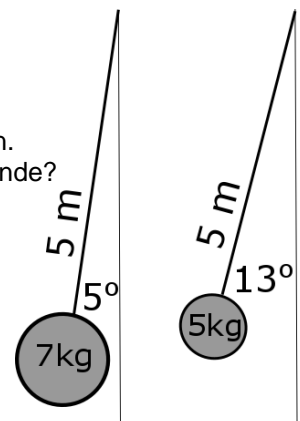
c:

c

88. Kookt water in His op een hogere, lagere of dezelfde temperatuur als in Kathmandu?

Hogere

89. Gegeven zijn twee pendula met verschillende gegevens:  
 Pendulum 1: lengte touw 5 meter, 0 kg, hoek 5 graden, gewicht bal 7 kg  
 Pendulum 2: lengte touw 5 meter, 0 kg, hoek 13 graden, gewicht bal 5 kg  
 Men meet voor beide pendula hoelang het duurt om tien uitslagen te maken.  
 Wat is het tijdsverschil tussen beide metingen afgerond op een tiende seconde?



0,0 seconde

90. Wat is de weerstand van deze weerstand?



296 kΩ



95. In welke Hisse straten hangen deze openbare AED-apparaten?



a:



b:



c:



d:

a: *Kerkstraat*

c: *Schoonstraat*

b: *Rembrandstraat*

d: *Strausslaan*

96. Waar in His staat dit paaltje?

De tekst luidt:

“Dr J.J.M. Franssen  
Burgermeester van Heesch  
1977 – 1990”



*grasveld bij Kennedystraat 86 - 92*

97. Hoeveel bushaltes zijn er in de bebouwde kom van His?



9

98. Wat is de afstand in centimeters tussen deze zwarte paaltjes aan de bovenkant gemeten?



*283,7 cm*

99. Deze verkeersborden staan in His, maar in welke straten?



a:

a: *Ludovicushof*



b:

b: *Verdilaan*



c:

c: *Beellandstraat*



d:

d: *Graafsebaan*

100. Volg onderstaande routebeschrijving en vul de juiste antwoorden in. Let op: het gaat alleen om wegen waar je met de auto terecht kunt!

Je staat met de auto op de Misse, je gaat de 1<sup>e</sup> links,

Wie van de commissieleden woont er in deze straat?

*Laurens*

3<sup>e</sup> links, 1<sup>e</sup> rechts, rotonde rechtdoor (Graafsebaan), 2<sup>e</sup> links

Wie van de commissieleden woont er in deze straat?

*Corien*

Ga vervolgens aan het einde van de weg rechts, 1<sup>e</sup> links, 2<sup>e</sup> links, 3<sup>e</sup> rechts, 1<sup>e</sup> links, 2<sup>e</sup> links, 1<sup>e</sup> rechts

Wie van de commissieleden woont er in deze straat?

*Stan*

Ga nu de 1<sup>e</sup> rechts, 1<sup>e</sup> links, 1<sup>e</sup> rechts, 2<sup>e</sup> rechts ('t Dorp), 1<sup>e</sup> rechts, bij het Labries naar rechts, 2<sup>e</sup> rechts, bocht mee naar links, 1<sup>e</sup> rechts

Wie van de commissieleden woont er in deze straat?

*Joop*

Ga nu de 3<sup>e</sup> rechts, 1<sup>e</sup> rechts, 1<sup>e</sup> links

Wie van de commissieleden wonen er in deze straat?

*Hans en Kelly*

Ga op de splitsing links, rotonde rechtsaf (Bosschebaan), 2<sup>e</sup> straat links, 1<sup>e</sup> links, 1<sup>e</sup> links, 1<sup>e</sup> rechts

Wie van de commissieleden woont er in deze straat?

*Bo*

**Let op! Op dit deel van de route vind je het antwoord van vraag 96.**

Vanaf hier ga je de 1<sup>e</sup> links, 1<sup>e</sup> links, 1<sup>e</sup> links, 2<sup>e</sup> links, 2<sup>e</sup> rechts, 1<sup>e</sup> links, aan het einde links, 1<sup>e</sup> rechts, 2<sup>e</sup> rechts, 1<sup>e</sup> links, rechts aanhouden, 1<sup>e</sup> links

Wie van de commissieleden woont er in deze straat?

*Emmy*