

Beste Hisse Kwisser

Het vriest dat het kraakt, alles ziet maagdelijk wit en binnen is het lekker warm. Genietend van een lekker kopje thee, kijken we even terug op het jaar 2013. Het jaar is weer voorbij gevlogen, het lijkt wel of het ieder jaar sneller gaat.

In januari was het nog super druk met het nakijken van de Kwis. Daarna konden we terug kijken op een geslaagde editie: Ja, het was weer een super Kwis en een leuke avond met de prijsuitreiking.

In maart zijn we met de commissie weer rondom de tafel gaan zitten en spontaan kwamen de eerste vragen al op papier.

En iedere keer kwamen we er weer achter dat alle, maar dan ook bijna alle vragen op het internet terug te vinden zijn.

Dus maar weer verder zoeken. Bij deze wil ik dan ook de andere commissie leden bedanken voor hun geweldige inzet om steeds maar weer te blijven zoeken. En iedere keer opnieuw enthousiast en creatief te blijven.

We hebben dan ook gezwoegd maar vooral ook veel genoten.

En met heel veel gevoel is het ons toch weer gelukt om een kwisboekje vol te krijgen met vragen van allerlei kaliber.

Hopelijk kunnen jullie vanavond met even veel positief gevoel en enthousiasme het boekje met antwoorden vol krijgen.

We wensen jullie dan ook namens ons allen weer veel kwisplezier. En vergeet niet:

Meedoen is belangrijker dan winnen.

Tot straks op de After Kwis Party!

Of tot 31 januari.

Succes.

Corien Vos-Verstegen

Voorzitter

Teamnummer:

Teamnaam:

Wij zetten de joker in op:

De Hisse Kwis is
mede mogelijk gemaakt door:



DAGELIJKS VERSE EIEREN



leeijen electro

ELECTROTECHNIEK
HUISHOUDTECHNIEK



Proud MaMa®
Be proud and show it!!!



C1000 Wiegmans
Schoonstraat 8
5384 AN Heesch




Klus en Schilderwerk

Henk Van Nistelrooij Tel: 0412-453328



Lees aandachtig eerst de onderstaande punten door!

1. De antwoorden op de vragen dienen te worden ingevuld in de gele omrande kaders van dit vragenboekje.
2. Aan niet of slecht leesbare antwoorden worden geen punten toegekend.
3. Spel correct. Als dit symbool  bij de vraag vermeld staat, letten we zeer scherp op spelling. Geen correcte spelling, dan ook geen punten.
4. Alleen de teams die hun vragenboekje tijdig en op de juiste wijze hebben ingeleverd dingen mee naar de prijzen.
 - a. Het ingevulde vragenboekje moet op 29 december 2013 worden ingeleverd in Cultureel Centrum De Pas tussen 23.00 uur en 23.30 uur.
 - b. Leg alle bladzijden van het vragenboekje op de juiste volgorde (paginanummer van laag naar hoog) en stop het terug in het mapje.
5. Er zijn 11 categorieën en een Geheime proef.

1. His anno 2013	7. Lost ut mar op
2. Bekende Hissenaren	8. Gehurd & Gezien
3. Hisse Historie	9. Wondere Web Wereld
4. Dur & Dur His	10. Algemeen
5. Sport & Verenigingen	11. Over de dorpsgrenzen
6. Bonusvragen	
6. Per categorie zijn 100 punten te verdienen. Ieder team mag een joker inzetten op één van de categorieën, uitgezonderd de Bonusvragen en de Geheime proef. Voor de gekozen categorie tellen de punten dubbel. Geef op pagina 2 aan voor welke categorie jullie team de joker inzet.
7. De uitslag van De Hisse Kwis wordt bekend gemaakt tijdens de prijsuitreiking in Cultureel Centrum de Pas op vrijdag 31 januari 2014 om 20:00 uur.

8. Geheime proef



Vanavond om 20:00 uur vindt een geheime proef plaats. De deuren van de Pas gaan hiervoor om 19:45 uur open.

Graag nodigen wij 1 persoon per team uit om hier aan deel te nemen.

Wees op tijd!

Te laat aanwezig betekent helaas dat jullie team 0 punten krijgt voor deze categorie.

Neem de laatste pagina uit dit boekje mee naar Cultureel Centrum de Pas.



De geheime proef duurt ongeveer tot 21:00 uur.



Veel succes!

1. In april werd er een benefietavond gehouden voor de "big-challenge": veehouderij tegen kanker. Enkele Hissenaren beklommen in juni 2013 de Alpe d'Huez met als doel een flink bedrag bij elkaar te fietsen voor het onderzoek naar kanker. Om nog meer geld in te zamelen werd er tijdens de benefietavond een veiling gehouden. Hoeveel was de opbrengst van de veiling op deze avond?

€18.517,-

2. Voor wie zijn deze Hisse tuinen in 2013 versierd? Noem de voor- en achternamen.



Herman Ceelen



Megan Janssen



Eric van de Wetering



Peter Vissers

3. Het oude vervallen jachtslot De Berkt ('t Kastleke) werd enkele jaren terug gerestaureerd. Wat was het thema van de Open Monumentendag in 2013?

Macht en Pracht

4. Janske Versteegen is dit jaar honderd geworden. Zij heeft vele kinderen en kleinkinderen. Weten jullie ook hoe de man heet van haar 4^e kleinkind?

abc ✓ Joan van Griensven

100

5. Sporthal Lindershof is opgesierd met een groot kunstwerk. Wie maakte dat en wanneer?

Joop Falke

1976

6. De laatste waarnemend burgemeester van Bernheze heeft dit jaar afscheid genomen. Opnieuw is hij gevraagd om als waarnemer een klus te klaren. Welke klus is dit?

Als commissaris van de Koning in de provincie Utrecht

7. Welke oud-Hissenaar kreeg dit jaar aan de Universiteit van Maastricht een professoraat in de moleculaire oncopathologie aangeboden?

Ernst-Jan Spiel

8. Op de onderstaande afbeeldingen zie je 4 nieuwbouwprojecten in His. Noem de naam van deze projecten.



Bonaparte



De Hoef 2



Schoonrijk



De Korenbeurs

9. Bij de Eijnderic worden vele cursussen gegeven. Welke cursus gaf Truus van Houting dit jaar?

Kantklossen

10. Waar en van wie kregen deze kinderen een rondleiding?

Emmausschool

Bouwbedrijf Gebr van Herpen



11. Popkoor Noiz presenteerde dit jaar een gemoderniseerde versie van het verhaal van Troje. Er werd geacteerd en gezongen. Op onderstaande foto is een lid van het koor te zien. Noem voor- en achternaam. En welke rol speelde zij in deze musical?



abc ✓ *Mieke Saras*

Griekse godin Hera

12. Om goed voorbereid te zijn leest iedere deelnemer voor De Hisse Kwis alle weekbladen door. Bij welke bekende Hissenaren horen onderstaande uitspraken en in welke editie stonden deze?

De leeftijd speelt ook een rol:

Gerrie Leeyen

8

Leven is veranderen:

Cor Peters Rit

40

Ik doe mee, omdat het slimmer kan:

Marian Langens

3 + 14

- 13.



Van wie is dit shirt?

Kirsten van de Ven

14. In de tweede helft van de vorige eeuw woonden er 2 Nard van den Akkers in His. De één was alom bekend als schilder. Welk beroep oefende de andere uit?

Kleermaker

15. Op de onderstaande afbeelding zie je een goed gemutste Hissenaar. Noem voor- en achternaam.

abc ✓ *Thieu van Lieshout*



Bekende Hissenaren

16. Wie is deze bijzonder charmante dame?
Noem voor- en achternaam en meisjesnaam.

abc ✓ *Tien van den Helm de Vries*



17. Wie zijn de onderstaande personen?

Piet van Hasje van Willem van Ciskes

Piet van Grunsven

Jo van Marie van Piet van Paul van Wimkes

Jo van Orsouw

Fons van Kluskes van Lentjes Bette

Fons van Venrooy

- 18.



Wie is deze Hissenaar?

Raivo Dankers

19. Welke Hissenaar stond "groot" afgebeeld in het huis-aan-huisblad MaasdijkMarathon?

Toon Ruijs

20. Deze man zit te genieten van Heesch Presenteert.

Wie is deze man?
Noem voor- en achternaam.

abc ✓ *Tien van der Heijden*



21. In de eerste helft van de 19^e eeuw werd een zgn. Rijksweg aangelegd in Noord-Brabant, die ook door His liep. Van waar tot waar liep de alom bekende oude Rijksweg? Noem de exacte locaties.

Bossche markt

Graafse veer

22. Hieronder zie je verschillende oude ambachtelijke voorwerpen. Noem de namen van de oude ambachtelijke voorwerpen.



Pollepel

Gehaktmolen

Houtboor

Aardappel molen

23. Waar begon in 1950, in His, de Vinkelsestraat? Waar begint nu in His de Vinkelsestraat?

Bij de rotonde waar 't Dorp eindigt en de Bosschebaan begint

Bij Herberg D'n Bekker

24. Deze man heeft zich vroeger jarenlang ingezet voor de boeren. Noem de voor- en achternaam van deze man.



Piet van Herpen



25. Het dialect van vroeger van ons mooie dorpje His mag je niet vergeten. Zet de onderstaande dialectwoorden om in het hedendaagse Nederlands.

Vurket

Vork

Renasselen

Schoenveter

Rijsborrel/rijbos

Musterhout (boshout)

26. In de loop der jaren is De Toermalijn groter en groter gegroeid.
Wanneer werd de eerste steen gelegd?
Welke naam of namen had de school vroeger?

1953

H. Hartschool, De Tuimelaar, Schalm

27. Hiernaast zie je een voetbalteam van FC Mintos.
Wie is de man die omcirkeld is?



Chris van den Akker

28. In de jaren 60 liep de Rijksweg dwars door ons dorpje His. Aan deze straat waren vele winkels / bedrijven gevestigd. Hieronder zijn verschillende winkels / bedrijven genoemd. Zet er het juiste huisnummer bij.

Rijksweg: 51 - 72 - 92 - 93 - 95 - 102 - 130 - 130a

Gebr. Van Herpen

130

J. van Herpen

130a

A. Hermes

51

Verhoeven Nollen

72

Smulders

92

J.A. van Erp

102

H. Ceelen

93

M. van Grunsven

95

29. In de vorige eeuw stonden deze gebroeders bekend als harde werkers op de boerderij. Wie zijn deze heren? Noem voor- en achternaam.



Jan van den Hurk



Hermus van den Hurk



30. Wat is de letterlijke Algemeen Nederlandse vertaling van de onderstaande zin:
Dâ doe'k nog niks nooi, zo mâr 'n pôtje biljârte!

Dat doe ik graag, zo maar een potje biljarten!

31. Hoeveel parkeerplaatsen zijn er bij het Verzorgingscentrum Heelwijk en appartementencomplex Emmaus aan de Mozartlaan?

39

32. Wat ontbreekt er op de onderstaande foto's?



Ventilatie rooster



Airco


33. Wat is het hoogste huisnummer aan de linkerkant van de Biezenloop als je deze straat vanaf de Nistelrodeseweg inrijdt?

147

34.



Hiernaast zie je 2 helften van graffiti-afbeeldingen uit His. Maak de graffiti-afbeeldingen af zoals het origineel.



35. Op deze handwijzer staat aangegeven hoeveel kilometer het is naar de betreffende plaatsen. Wij hebben op de afbeelding de cijfers weggepoetst. Wat is het aantal af te leggen kilometers bij elkaar opgeteld?

84 km



36. Iedere Hissenaar kent kunstroute Tango. Deze route verbindt de wijken ten noorden van 't Dorp met elkaar. Geef op onderstaande plattegrond aan waar de route loopt.



37. Wat zijn de kleuren van de voordeuren van De Hisse Kwis commissieleden?

Michelle: bruin
 Corien: blauw
 Rick: grijs
 Hans: groen
 Marion: rood
 Stan: wit

38. Hieronder zie je objecten uit Hisse voortuinen. Zet het juiste adres bij elke foto.



a:



b:



c:



d:

a: *Ophoviusstraat 35*

c: *Jan Steenstraat 19*

b: *Sonniusstraat 4*

d: *Zoggelsestraat 1*

39. De Bruna lijkt wel het Glazen Huis. De gevels zijn opgebouwd uit vele glazen elementen. Hoeveel glazen elementen telt het gebouw? (Met uitzondering van de achterzijde.)

164 glazen elementen

40. In welke straat staat dit hek en hoeveel vierkantjes zitten er in dit hek?

Leliestraat

240 vierkantjes



41. Met welk startnummer rijdt motorcrosser Glenn Coldenhoff dit jaar en waarom?

259

Altijd met nummer 25 werd vorig jaar 9^e op WK. Zodoende 259

42. Hoeveel spelers in de selectie van HVCH, in het seizoen 2013/2014, hebben nooit bij een andere voetbalclub gespeeld?

20 spelers

43. Zet de onderstaande carnavalsverenigingen bij de juiste foto's.

CV Gazerop
CV De Blauwe Knûp
CV Duh Stumpers
CV Tosti



CV Gazerop



CV Tosti



CV De Stumpers



CV De Blauwe Knûp

44. Wat is de kleur van de grote ronde lamp die bij Wellness Test & Training Heesch boven de tafel hangt?

Rood

45. Welke vereniging heeft deze zin in haar reglement staan:
De vereniging heeft als clubkleuren rood, zwart, en wit. Clubkleding is uitsluitend bestemd voor clubleden.

TWC de Voorsprong

46. Van welke vereniging wordt hier het clubgebouw gesloopt?

Paardensport vereniging Parcival Bernheze



47. Waar werd dit jaar de kampioenswedstrijd van DOS'80 dames 1 gespeeld en wie was de tegenstandster?



Elshout

Drunen



48. Noem de Hisse club die bij de onderstaande foto hoort.



HBC'81 (Heesche Bridge Club)

49. Hoeveel openbare tennisvelden heeft His?

0



50. DOS'80 is alom bekend in His, maar His heeft nog een vereniging die DOS in de naam heeft. Noem de volledige naam van deze vereniging. Wat beoefenen zij?

DOS '71

Biljarten

Bonusvragen

DE HISSE KWIS

A. In de winkel bij  hangen letters aan het plafond.

Combineer de letters tot één woord en

Requal

geef aan wat dit woord voor hen betekent?

Huismerk

B. In de afgelopen jaren realiseerde  06 51286021 vele bijzondere

berekeningssystemen. Als je goed kijkt naar het fotoalbum op de website zie je op een gegeven moment een mooie, donkere naakte vrouw op de foto staan.

Op hoeveel foto's zie je haar?

3

C. Hoeveel oudejaarsloten liggen bij  in de vitrine?

10

D. Tel de cijfers die bij de luikjes staan in de

bij elkaar op?

658



DAGELIJKS VERSE EIEREN

'UIT DE EIERAUTOMAAT'
BOSSCHEBAAN 27 HEESCH

Bonusvragen

DE HISSE KWIS

E. Knip onderstaande logo's uit zodat de zwarte rand nog zichtbaar is. Plaats de logo's horizontaal of verticaal in deze vierhoek rondom de tekst **Succes De Hisse Kwis** zodat alles precies past.



51. Elke letter stelt een cijfer voor; verschillende letters zijn verschillende cijfers
Begin hier maar eens met de letter A.

$$\begin{array}{r} \text{EDCB} \\ \text{Ax} \\ \hline \text{FAAAA} \end{array}$$

$$7361 \times 8 = 58888$$

52. De schilder woont niet in een hoekhuis. Het huis met de gele deur heeft een hoger nummer dan de elektricien. De deur van nummer 64 is groen, een van de andere deuren is bruin. De metselaar heeft de winkel tussen de zaak met de blauwe deur en nummer 66.

Welk huisnummer heeft de kruidenier?

66



53. Je heb vier verschillende getallen. De som is 27. Als je bij het eerste getal 2 optelt, van het tweede getal 2 aftrekt, het derde getal met 2 vermenigvuldigt en het vierde getal door 2 deelt, vind je vier keer dezelfde uitkomst.

Welke vier getallen zijn dit?

4

8

3

12

54. Streep in het volgende getal vier cijfers door, zó dat je een zo hoog mogelijk getal overhoudt.

6715238791

758791

En zó dat je een zo klein mogelijk getal overhoudt.

6715238791


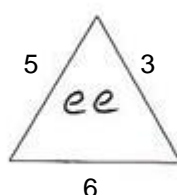
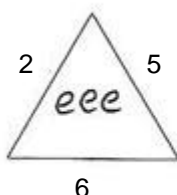
123791

55. Candy Crush is een spelletjes hit van 2013.
Welke level van Candy Crush zie je op dit plaatje?

Level 48




56. Hier zie je 3 driehoeken. In de eerste twee driehoeken staat het aantal e's.
Hoeveel e's moeten er in de derde driehoek staan?





6

57. Hieronder zijn vier blokjes afgebeeld. Elke vorm is voorzien van een identieke 2^{de} helft en samen vormen ze een gehele kubus. Er is echter één stuk dat niet aan de eis voldoet en niet een hele kubus vormt. Welke vorm voldoet niet aan de eis?










































C




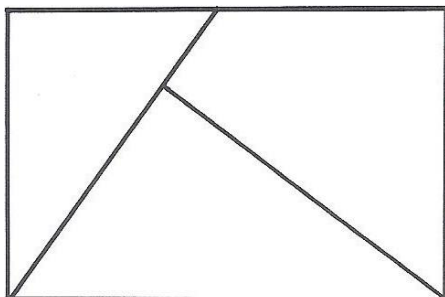
58. Het logo De Hisse Kwis is per ongeluk uit elkaar gevallen. Bij ieder vierkantje  hoort een vraagteken 

De vraagtekens raken elkaar niet, ook niet diagonaal. De getallen naast het veld geven aan hoeveel vraagtekens er in de desbetreffende rij of kolom staan.

Zet bij ieder vierkantje boven, onder of ernaast een vraagteken 

									4
									0
									4
									0
									3
									1
									3
									0
									4
3	1	2	2	1	3	2	2	3	

59. Teken de onderstaande rechthoek na en/of knip hem uit langs de lijnen. Kun je van de stukken een vierkant maken? Zo ja, plak deze dan hiernaast.



60. Woordzoeker De Pas

D	E	H	D	E	H	I	S	S	E	K	W	I	S	I	S
S	H	Y	T	R	A	P	R	E	T	F	A	L	N	H	E
G	O	E	D	J	E	W	E	E	R	T	E	Z	I	E	N
T	O	P	C	U	L	T	U	R	E	E	L	A	E	T	B
E	I	K	E	W	I	T	S	R	D	Z	U	A	U	C	E
R	Z	S	E	N	H	G	E	E	L	F	N	L	W	A	E
A	O	T	P	E	I	M	D	A	T	I	C	V	S	F	V
B	L	M	A	O	A	N	A	R	R	L	H	E	B	E	A
A	D	T	U	K	N	Z	G	E	E	M	U	R	R	A	R
C	E	G	I	I	E	S	O	S	B	H	U	H	I	D	T
R	R	E	E	S	D	E	O	E	T	U	R	U	E	N	R
D	O	R	S	V	L	O	E	R	D	I	T	U	F	E	A
G	J	I	S	W	C	E	P	V	I	S	J	R	W	G	V
E	M	E	I	I	R	D	R	E	H	N	E	D	B	A	E
E	Z	L	M	C	E	N	T	R	U	M	G	I	E	G	E
T	C	O	E	S	A	P	A	E	R	C	E	Z	I	N	A
O	C	E	D	E	P	A	S	N	T	U	E	G	E	D	N

AGENDA	DE PAS	NIEUWSBRIEF
AFTER PARTY	DE HISSE KWIS	OPENINGSTIJDEN
BERT	DEN HERD	PODIUM
CABARET	DORSVLOER	RESERVEREN
CENTRUM	FILMHUIS	SPONSORING
COMIC	GOED JE WEER TE ZIEN	THEATER
CREAPAS	GOEIKAMER	TRAVEE A
CULTUREEL	HET CAFE	TRAVEE B
DE DEEL	HOOIZOLDER	WILCO
DE GEUT	LUNCHUURTJE	ZAALVERHUUR
DE MISSE	MISSEZAAL	

Oplossing: *De Hisse Kwis zegt goed je weer bezig te zien*

61. Hieronder zie je wat details van een jeugdserie. Welke jeugdserie bedoelen we hier?

Swiebertje



62. Zaterdag 2 maart was in Cultureel Centrum De Pas het benefietconcert Nothing Else Matters. Hoeveel geld werd er voor het goede doel Veilig Verkeer Nederland Afdeling Maasland opgehaald?

€3.000,-

63. In welke Hisse straat horen deze containers thuis?



Herman Broodstraat

64. Er is een kinderliedje waar allerlei levensmiddelen in voorkomen die beginnen met de letter P. Hoe heet dit kinderliedje? Noem 4 verschillende levensmiddelen die beginnen met de letters PA die voorkomen in dit liedje.

Lekker lekker p(hu)

Patat - Pasta - Pannenkoek - Paprika - Paling - Paasei - pappelmoes

65. Op deze foto zie je een stel familieleden die dit jaar samen wat te vieren hadden. Wat is de naam van deze familie? En wat hadden ze te vieren?



Familie v.d. Ven

Samen 1000 jaar

66. Op Heesch Presenteert trad dit jaar een nieuwe band op, The Basement, met Mick, Lars, Rolf, Dirk en Maik. Deze band treedt ook op met een andere naam. Noem de naam van deze band.

Onsz11

67. Uit welke films zijn deze fragmenten?



White Chicks



Süskind



Loft

68. Tijdens het ophalen van het boekje zag je 6 verschillende attributen aan de kapstok hangen. Noem deze attributen.

Badjas, hoed, paraplu, boodschappentas, crew jas, Barcelona shirt

69. Eind jaren 60 maakten verschillende Hisse bedrijven reclame voor hun zaak in het weekblad D'n Herd. Vul de goede bedrijfsnaam in het kader in.

Wij hebben de volledige sortering
PLASTICANT
in voorraad

WEGENS
VAKANTIE
GESLOTEN
van 23 juni t.m.
5 juli 1969

J. v Herpen

*v.d. Hoogen
supermarkt*

Rijksweg 96, Telefoon 287
presenteert
de hele week
bij 10 gld. boodschapp.
1 haan van 9¹/₂ ons
voor f 2,69
„Pikin Tis Nieduur”

Voor de vakantie

auto-radio

compleet met
luidspreker voor f 99.-

J. Wingens

70. Op 2 november is er een nieuwe indoorspeeltuin geopend in His.

Wat is de naam van deze speelwereld?
Hoe komen ze aan deze naam?

Marvy's speelwereld

Samenvoegen van de letters van de voornamen. Mark en Revy

71. De Mooi Bernheze Krant heeft afgelopen jaar een aanbieding op Facebook geplaatst voor een social mediatraining. Wat kostte deze aanbieding?

€125,-



72. Welke Hisse onderneming plaatste de 'Twitpic' die nu op De Hisse Kwis twitter-account staat?

Pannenkoekenhuis Heesch



73. Hieronder zie je enkele elementen van een Company Page op LinkedIn. Deze elementen horen bij een bedrijf uit His. Welk bedrijf bedoelen we?

Industry

Telecommunications

Type

Privately Held

Company Size

11-50 employees

Founded

1991

OrcaGroup



74. Wat wordt er jaarlijks nog meer gevierd op de verjaardag van de uitvindster van de techniek die nu voor WIFI wordt gebruikt?



Dag van de uitvinders

75. Welk in His gevestigd bedrijf plaatste deze foto op Facebook?

McDonalds Heesch



76. Hoe heet de dienst waarmee je voor een bepaald bedrag per maand online onbeperkt films en series kunt kijken?

Netflix



77. Wat is de exacte gratis WiFi netwerken van de volgende bedrijven uit His?

Bomenpark

Bomenpark Gasten

Albert Heijn

KPN

Bibliotheek

Bibliotheek

78. Een gezin uit His, met 3 kinderen en 4 computers, heeft een Ziggo Alles-in-1 Extra pakket afgesloten. Wat is hun internetsnelheid? .. MB/s

18,75 MB/s

79. Navigeer naar: <https://www.youtube.com/watch?v=nYstXfqv0QA>
Op het filmpje is een internethype te zien die dit jaar helemaal in was. Noem de naam van deze internethype en door wie de hype gestart is.

Harlem Shake

Door 5 studenten uit Queensland, Australië, Filthy Frank

80. Hieronder zie je afbeeldingen van mobiele applicaties.
Noem de naam van deze apps:



a:

a: *Waze*



b:

b: *Shazam*



c:

c: *TuneIn Radio*



d:

d: *Vakantievelingen*



e:

e: *Weeronline*

81. In de staat Massachusetts zijn in totaal meer dan 1000 meren.
Hoe heet het meer met de langste naam?
Uit hoeveel letters bestaat deze naam?

Chargoggagoggmanchauggagoggchaubunagungamaugg

45

82. Noem de groentesoorten die hieronder staan afgebeeld.



Bloemkool

Spruiten

Witlof

Andijvie

83. Welke stier verbeterde afgelopen jaar het wereldrecord van de Nederlandse topstier Sunny Boy?

Jenny-Lou Marshall Toystory



84. Benoem de woordsoorten, lidwoord, pers. voornaamwoord enz., in de volgende zin:
Het maken van zo'n kwis, waarbij jong en oud elkaar kunnen helpen,
zorgt voor enkele aangename uurtjes, toch?

zo'n

Aanwijzend voornaamwoord

elkaar

Wederkerig voornaamwoord

enkele

Onbepaald hoofdtelwoord

toch

Interjectie of tussenwerpsel

85. De Wereldwinkel verkoopt originele cadeaus en (h)eerlijke levensmiddelen uit andere culturen. Zo vind je er o.a. chocoladerepen, gemaakt van cacao waar de boeren uit Ghana en Ivoorkust een eerlijke prijs voor ontvangen. Wat is de naam van deze chocoladerepen?

Tony's Chocolonely repen

86. Vorig jaar verscheen de debuutroman van een kleinzoon van Janus Driek Wouteren. In de pers werd hier uitgebreid aandacht aan besteed. Hoe heet deze debuutroman?

En het regende brood

87. De onderstaande afbeeldingen zijn details uit Nederland. Wat is er afgebeeld op de onderstaande luchtfoto's?



Afsluitdijk



Zendmast Lopik



MSD Oss



Bomenpark

88. Schrijf de onderstaande zin foutloos. Vindt je moeder Maximas jurk en Beatrix' hoed passen in het huidige modebeeld.

Vindt je moeder Maxima's jurk en Beatrix' hoed passen in het huidige modebeeld?

89. In welke stad verrijst het gebouw "de ijsberg"? En wie is de architect?

Parijs

Frank Gehry

90. Deze machines van Amerikaanse oorsprong werden veel in het leger gebruikt. Ook in Nederland werden deze machines gebruikt. Hoe heet deze machine?

Adresseermachine



91. Iedereen kent onze dorpsgenoot Ruud van Nistelrooy. Dit jaar werd er een musical naar Ruud vernoemd, "In de Basis".

Noem de spelers die de rol van Ruud op zich namen.

Tim Nauwens, Paul v Hoogstraten, Serge Romme, Damian v Essen

92. De Weg van de Toekomst kent ook een futuristische fietstunnel waar mensen met plezier en een veilig gevoel doorheen fietsen.

Hoe heet deze tunnel en wie is de ontwerper?

Tunnel van de Toekomst

Pieter-Jan Stallen



93. Hoeveel kledingmerken verkoopt van Tilburg Mode wel in Nistelrode maar niet in de andere filialen?

434 merken

94. Waar in Bernheze is deze foto genomen?



Natuurtheater Kersouwe

95. Uitgaanscentrum Lunenburg is al jaren bekend in Bernheze. Tegenwoordig gaat de Lunenburg op zaterdagavond ook met een andere naam door het leven.

Hoe wordt Lunenburg op zaterdagavond genoemd?

Club Luna

96. Wat kost één los entreekaartje bij de recreatieplas De Hofman?

€2,50

Over de dorpsgrenzen

97. In Vinkel zijn tijdens het 11-11 bal 2 prinsessen onthuld. Zij zullen de scepter zwaaien in Kafland tijdens carnaval 2014.

Wat zijn de meisjesnamen van beide prinsessen?

abc ✓ *Christien van Bergen*

abc ✓ *Jeanne Steenberg*

98. Wie heeft er in 2013 een historische film gemaakt over Nistelrode van het vroeger en nu?

Harrie van Grinsven

99. Noem de volledige naam van de onderstaande horecagelegenheden.
Bijvoorbeeld: Cultureel Centrum De Pas
Dus niet alleen: De Pas



a:



b:



c:



d:



e:



f:



g:



h:

a: *Café Restaurant zaal de Toren*

e: *Café De Klepel*

b: *Partycentrum Dorsvlegel*

f: *Grand café Drie Heere*

c: *Café De Snor*

g: *Eet/Drink café De Nieuwe Wereld*

d: *Den Driehoek*

h: *Zaal Kerkzicht*

100. Hoeveel teams deden er in 2012 mee aan de dorpskwissen in de plaatsen die aan His grenzen?

Vinkel 37, Geffen 85, Nistelrode 90, totaal 212 teams

Teamnummer Teamnaam

Naam

1. _____

1. _____

2. _____

2. _____

3. _____

3. _____

4. _____

4. _____

5. _____

5. _____

6. _____

6. _____

7. _____

7. _____

8. _____

8. _____

9. _____

9. _____

10. _____

10. _____

Totaal: _____